

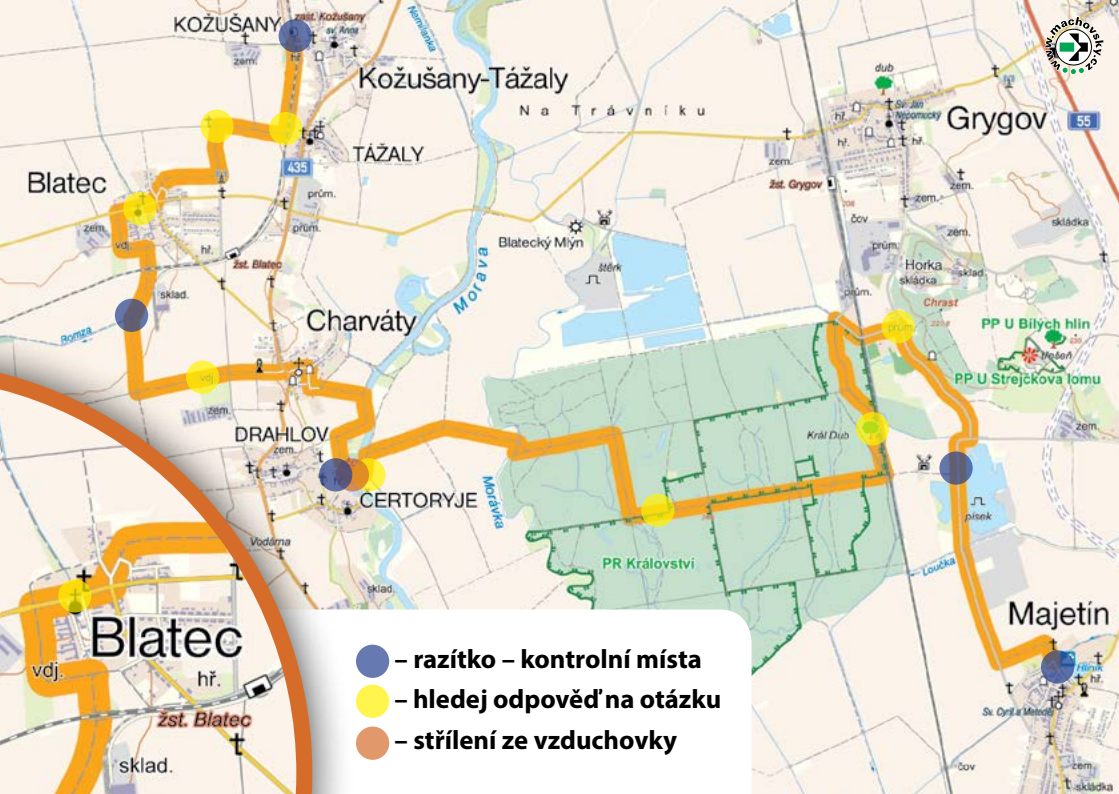
Mapa




- 1) Start - první kontrolní místo – razítko Kožušany - Tážaly
- 2) Ve kterém roce byl opraven železniční most v Tážalech?
- 3) Kolik obličejů je na soše sv. Norberta?
- 4) Uvedte jméno zakladatele prvních blateckých spolků.
- 5) Z kolika dřevěných prken k sezení je lavička u kaple v Blatci? (ta u lípy)
- 6) Druhé kontrolní místo – razítko Blatec
- 7) Jaké druhy stromů jsou vysazeny u vodojemu v Drahlově?
- 8) Třetí kontrolní místo – razítko Charváty
+ dobrovolné střílení na terč.
- 9) Jaká je u mostu v Drahlově umístěna tabulka?
(ne dopravní značka)
- 10) Jak se lesní chata jmenuje?
- 11) O jaký památný strom se jedná a jaké je jeho stáří?
- 12) Název ulice při výjezdu z lesa.
- 13) Čtvrté kontrolní místo – razítko Grygov
- 14) Páté kontrolní místo – cíl – razítko Majetín

Jméno, příjmení:

Obec:

**Královstvím na kole
1. 5. 2019**



-  – **razítko – kontrolní místa**
-  – **hledej odpověď na otázku**
-  – **střílení ze vzduchovky**